


# Hvilke akkorder og becifringer kan man møde i opgave A?

## Treklange



Stor + lille terts



Lille + stor terts



Lille + lille terts




Stor + stor terts




Kvart + st. sekund


## Akkorder med 7'ere




Med lille septim



Med stor septim



Med lille septim




Med stor septim

## Akkorder med 6'ere



Med store 6'ere




## Akkorder med 9'ere og 7'ere




Med stor 9'er og lille 7'er



Med lille 9'er og lille 7'er



Med stor 9'er og stor 7'er



Med stor 9'er og lille 7'er

## De drilske



3+3+3



3+3+4



Sus med lille 7'er

Akkorderne kan have enten grundtone, terts, kvint eller septim i bassen.